



oxygène
Académie
Agrément n°: 1585 daté du 19 Mars 2014

مدرسة خاصة للتكوين المهني **مهن التلفزيون والراديو والصحافة**

ECOLE PRIVEE DE FORMATION PROFESSIONNELLE
LES METIERS DE LA TELEVISION DE LA RADIO ET DE LA PRESSE

07 Rue DOUDOU Mokhtar, Ben aknoun, Alger Fixe :021 91 46 12 Mobile : 05 50 57 73 80

Site web : www.oxygeneacademie.com Contact Mail : contact@oxygeneacademie.com

Spécialité : Opérateur de prise de vues vidéo

Groupe : 02

Date : 31 décembre 2017

Nom :

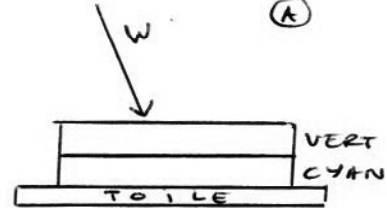
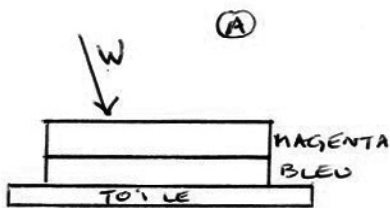
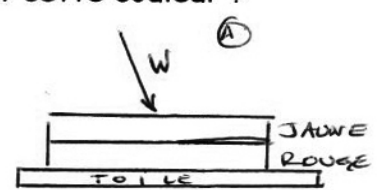
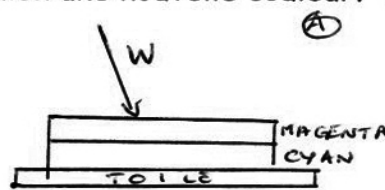
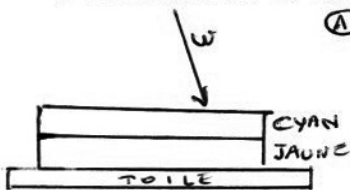
Prénom :

01 - Classez par ordre ascendant (la plus petite à la plus grand) de la profondeur de champs les données Suivantes :

- F 25 mm f 11 D= 6 Mètres
- F 25 mm f 4 D= 6 Mètres
- F 100mm f 16 D= 6 Mètres
- F 35mm f 5.6 D= 6 Mètres
- F 35mm f 11 D= 6 Mètres

02- Le peintre pose sur une toile blanche, deux couches de peinture (Pigments) pour reproduire d'autres couleurs.

L'observateur A voit par réflexion une nouvelle couleur. Quelle est cette couleur ?



03- Donnez les grandeurs photométriques et leur unité respective ?

Quelles sont les grandeurs utilisées fréquemment par l'Opérateur de prise de vues ?

04- Quelles sont les dominantes occasionnées par un déséquilibre de la température de couleur quelle sont les unités de cette température ? Quelle est la fonction, sur la caméra vidéo qui permet de rétablir cet équilibre citez les options existantes de cette fonction ?

05- Qu'est ce le format film (exemple). ? - Qu'est ce que le format vidéo (exemple) ?

FORMATEUR : BEDJAOUI Smain